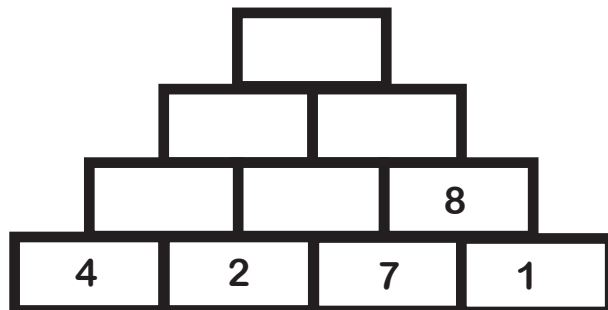
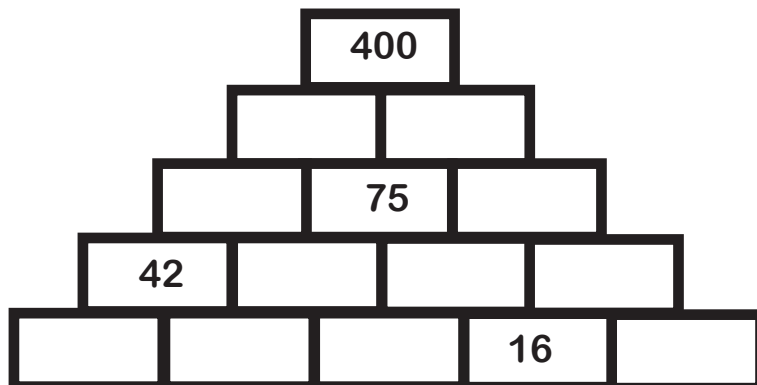
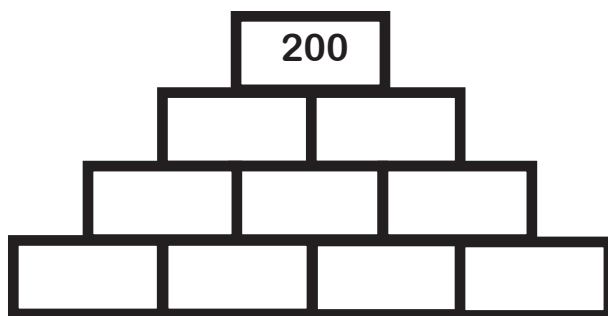


## PIRÁMIDES NUMÉRICAS

Completá la pirámide teniendo en cuenta que cada ladrillo de la fila superior es la suma de los dos ladrillos inferiores que lo sostienen.



¿Qué sucede en estos casos? ¿Creés que hay una única solución?



Te proponemos inventar una pirámide numérica para que desafiar a tus amigos.

